

令和8年度

前期

入学試験問題

社 会

注意事項

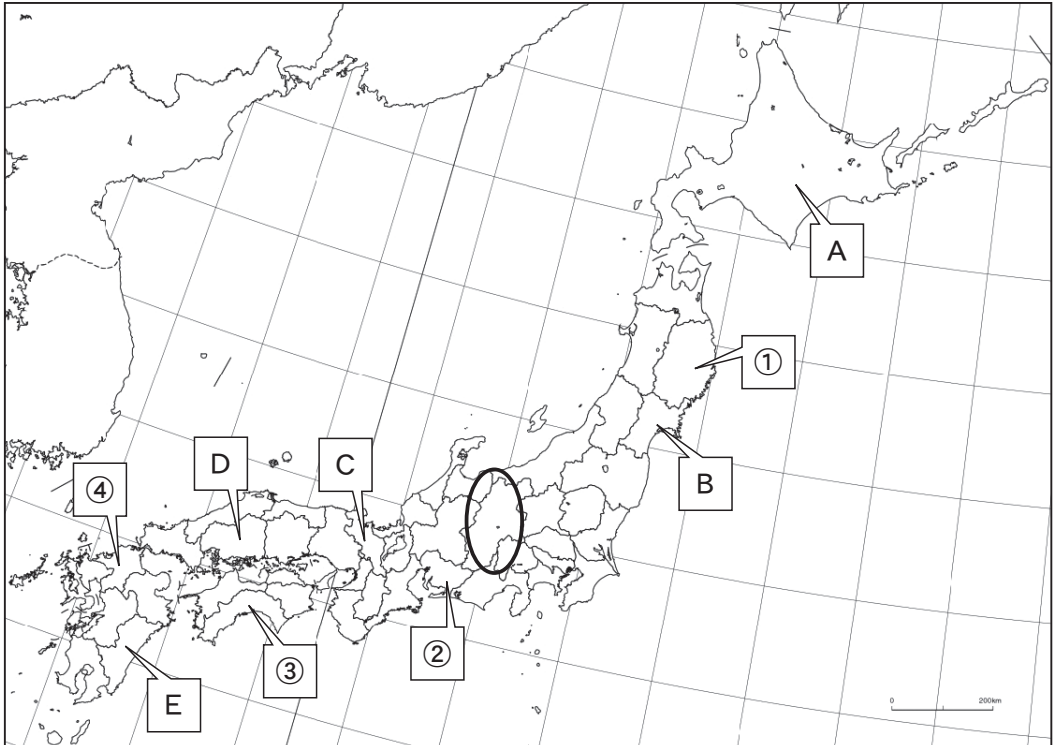
1. 試験問題は指示があるまで開かないでください。
2. 解答は必ず解答用紙に記入してください。
3. 問題冊子・解答用紙に、受験番号と氏名を記入してください。
4. 問題冊子は必ず持ち帰ってください。

受験番号	氏 名	

近畿大学附属広島中学校東広島校

問題は、次のページから始まります。

1 次の日本地図を見て、後の問いに答えなさい。



問1 地図中A～Eで示された道府県のうち、「日本三景（松島、天橋立、宮島）」のある道府県を3つ選び、記号で答えなさい。なお、解答の順番は問いません。

問2 地図中の太い線で囲まれた地域には、「日本の屋根」とも呼ばれる、標高3,000m級の山々が連なる山脈があります。ヨーロッパの山脈にちなんで名付けられた、この山脈の総称^{そうしょう}を答えなさい。

問3 次のア～エの文は、地図中の①～④で示された県に見られる特徴的な産業や文化、または近年注目されている取り組みについて説明したものです。説明文として、最も適当なものを1つ選び、記号で答えなさい。

ア ①は、さくらんぼの生産量が日本で最も多い都道府県です。

イ ②は、太平洋ベルトの一部で、自動車メーカーの本社や工場が集まっています。

ウ ③は、みかんの生産量が日本で最も多く、海岸には防潮堤が建設されています。

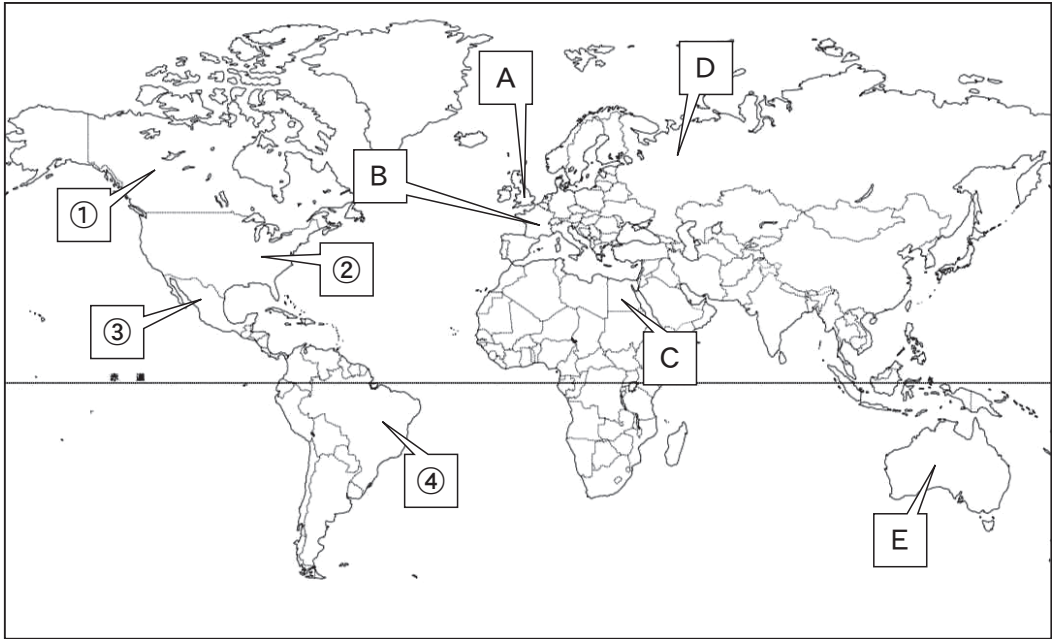
エ ④は、かつて琉球と呼ばれ、近年では、半導体関連産業の集積も進んでいます。

問4 次の資料をもとに、広島県が現在抱えている課題をあげ、その課題を解決するための具体的な対策を考えて、答えなさい。

- ・広島県は2024年の人口移動報告で、4年連続で全国最多の転出超過を記録した。
- ・転出者のうち20代が6割を超え、15歳から34歳までの若年層が約8割を占める。
- ・大学進学時などに県外から流入してくる人数が減少しており、特に山口県からの転入が10年以上前と比較して半減しているほか、三大都市圏からの流入も近年減っている。
- ・若者が希望する学部が県内の大学にないため、県外の大学へ進学するケースが多い。
- ・県内に魅力的な企業や職種があっても、学生にその情報が十分に伝わっていない。
- ・人気アーティストのライブが「広島飛ばし」されるなど、街に魅力を感じにくい。

(中国新聞 2025年2月3日社説より作成)

2 次の世界地図を見て、後の問いに答えなさい。



問1 この世界地図の特徴を説明した文として最も適当なものを、次のア～エから1つ選び、記号で答えなさい。

- ア 地球上のすべての大陸が地図に描かれている。
- イ 陸地の面積がすべて正確に表現されている。
- ウ 旧グリニッジ天文台を通る経線は地図の中央にある。
- エ この地図では、大西洋が両端に分かれている。

問2 地図中のA～Eの国々のうち、国民の間で最も広く英語が使われている国を2つ選び、その国名をそれぞれ答えなさい。なお、解答の順番は問いません。

問3 2026年にアメリカ大陸の3か国で共同開催されるFIFAワールドカップの開催国としてあてはまらないものを、地図中の①～④から1つ選び、記号で答えなさい。

3 次の文章を読んで、後の問いに答えなさい。

2025年、お米の値段が前年の約2倍になったため、「①令和の米騒動」としてマスコミに取り上げられ、私たちの生活に大きな影響を与えました。しかし、小泉農林水産大臣が備蓄米を放出したことで、いったん沈静化しました。

②日本の稲作は、縄文時代の終わりごろから弥生時代にかけて中国や朝鮮半島から九州地方に伝わったと考えられています。それまで木の実や魚をとって生活していた人々は、安定して食料を生産できるようになり、人口も増加しました。お米の生産量が増えると、力を持つ者が現れ、小さな国々が統合されて③大和朝廷が成立しました。当時、お米は税として納められ、国の豊かさや権力の象徴でした。

その後、④中国（唐）にならって律令が整備され、収穫した米の約3%が税として納められました。奈良・平安時代も米は国の基盤であり、鎌倉時代から戦国時代にかけては、武士が兵力を増強し、戦に勝つために米作りを重視しました。⑤豊臣秀吉などの武将たちも米作りを重視し、天下統一を進めました。江戸時代には、お米が日本の経済基準となり、武士の給料も米の量で表されました。明治時代以降は、外国からの技術導入や品種改良により、米の生産量はさらに増加しました。第二次世界大戦後の食糧難をへて、多くの人々の努力により、現在の豊かな米供給が実現しました。

問1 下線部①に関連して、1918年の米騒動は米の買いしめが原因だと言われているようですが、何という戦争の終わりごろに発生した出来事ですか。次のア～エから1つ選び、記号で答えなさい。

ア 戊辰戦争 イ 日清戦争 ウ 日露戦争 エ 第一次世界大戦

問2 下線部②について、今からどのくらい前のことですか。次のア～エから1つ選び、記号で答えなさい。

ア 約5000年前 イ 約2500年前
ウ 約1000年前 エ 約500年前

問3 下線部②について、弥生時代の稲作の様子として最も適当でないものを、次のア～エから1つ選び、記号で答えなさい。

- ア 草木を焼いた灰が、主に肥料として使われていた。
- イ 人々は集まって住み、協力して農作業をしていた。
- ウ 石包丁を使って、稲穂をかりとって収穫していた。
- エ 米を湿気に強い高床の倉庫に保存していた。

問4 下線部③について、このころ巨大な古墳が作られるようになりましたが、このうち大仙古墳に代表される次の図のような形をしている古墳を何と呼びますか、答えなさい。



問5 下線部④について、律令など中国のすすんだ政治の仕組みや文化を取り入れるために、中国（唐）に派遣された使節団を何というか、答えなさい。

問6 下線部⑤が行った政策の目的について、次の資料を参考にして説明しなさい。

資料

豊臣秀吉は、全国に家来を派遣して、村ごとに検地を行い、田畑の面積を計測し、土地の良しあしと収穫量、耕作者の名前を記録させました。

4 タケシさんは、武士政権の歴史について発表する準備として、4枚のカードをつくりました。これを見て、後の問いに答えなさい。

①

関ヶ原の戦いで勝利すると、徳川家康は（ ）に任命され、江戸に幕府を開き、大阪城を攻めて豊臣氏をほろぼし、江戸幕府の基礎を築いた。

②

武士の勢力争いの中で力をつけてきた、が武士として初めて太政大臣となり、自分の娘を天皇のきさきにして政治に大きな影響力を持つようになった。

③

足利尊氏が（ ）に任命されて以降も争いが続いたが、足利義満の時代になると、各地の守護大名を従えて、強い権力を持った。また、明との貿易を行いたくさんの富をたくわえた。

④

弟のの活躍で、平氏との戦いに勝った源頼朝は、有力な御家人を守護や地頭に任命して全国各地においた。1192年（ ）に任命され、全国の武士を従える地位についた。

問1 カード①～④を時代の古い順にならびかえたとき3番目になるものを1つ選び、カードの番号を答えなさい。

問2 カード①③④の（ ）に共通してあてはまる役職を答えなさい。

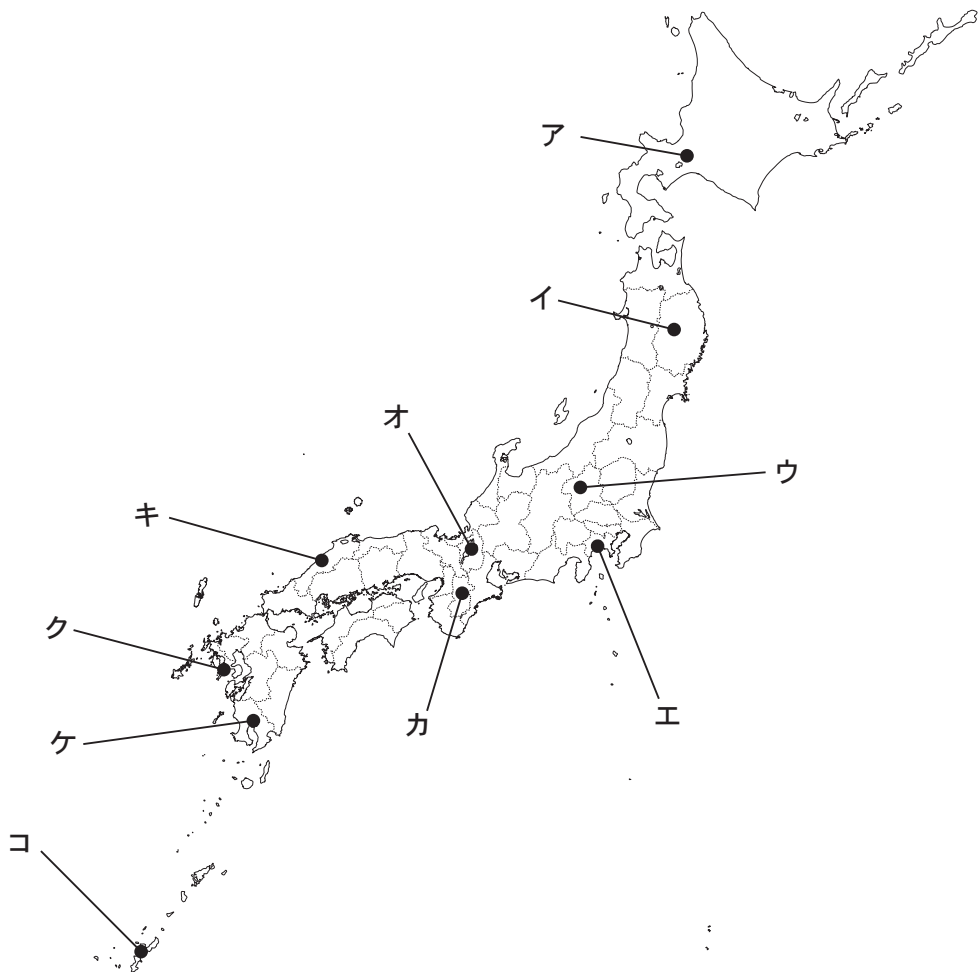
問3 ・にあてはまる人物をそれぞれ答えなさい。

問4 カード④の源頼朝と御家人の関係を、次の用語を用いて説明しなさい。

「奉公」「領地」

5 次の①～⑤の文にあてはまる都道府県を，地図中のア～コからそれぞれ1つずつ選び，記号とその都道府県名を答えなさい。

- ① オランダ商館が置かれた出島があった。
- ② 新政府軍と旧幕府軍が戦った五稜郭があった。
- ③ 聖徳太子が建立した，現存する最古の木造建物である法隆寺があった。
- ④ 阿弥陀仏の極楽世界ごくらくを表した中尊寺金色堂があった。
- ⑤ 織田信長が全国統一の拠点きょてんとした安土城があった。



- 6 次の表は、2025年7月に国際連合が発表した世界人口推計をもとに作成された表です。この表1を見て、後の問題に答えなさい。

表1 人口上位10カ国の推移

	2024年	2054年	2100年
1	(A) 14億5100万人	(A) 16億9200万人	(A) 15億500万人
2	中国 14億1900万人	中国 12億1500万人	中国 6億3300万人
3	アメリカ 3億4500万人	パキスタン 3億8900万人	パキスタン 5億1100万人
4	インドネシア 2億8300万人	アメリカ 3億8400万人	ナイジェリア 4億7700万人
5	パキスタン 2億5100万人	ナイジェリア 3億7600万人	コンゴ民主共和国 4億3100万人
6	ナイジェリア 2億3300万人	インドネシア 3億2200万人	アメリカ 4億2100万人
7	ブラジル 2億1200万人	エチオピア 2億4000万人	エチオピア 3億6700万人
8	バングラデシュ 1億7400万人	コンゴ民主共和国 2億3800万人	インドネシア 2億9600万人
9	ロシア 1億4500万人	バングラデシュ 2億1900万人	タンザニア 2億6300万人
10	エチオピア 1億3200万人	ブラジル 2億1500万人	バングラデシュ 2億900万人

問1 (A)に入る国名を答えなさい。

問2 表1を見ると2100年までに人口上位10カ国内の順位が上がった国、下がった国があることが分かります。順位の変動にはどのような傾向^{けいこう}がありますか。次の表2を参考にして説明しなさい。

表2 1人あたり国民所得（国民の経済的な豊かさや生活水準を示す）

国名	単位（ドル）	国名	単位（ドル）
アメリカ	76590	中国	12890
ロシア	12810	ブラジル	8240
インドネシア	4580	バングラデシュ	2820
（ A ）	2400	ナイジェリア	2160
パキスタン	1570	タンザニア	1200
エチオピア	1020	コンゴ民主共和国	610

（『2025データブックオブ・ザ・ワールド』より）

7 次の時事問題に答えなさい。

問1 2025年6月、ある動物が和歌山県のテーマパークから母国へ返還^{かん}されました。また、東京都の動物園の2頭も同じく今年の1月に返還予定です。この動物と母国の正しい組み合わせを、次のア～エから1つ選び、記号で答えなさい。

ア ゾウ（インド）

イ トラ（ブータン）

ウ パンダ（中国）

エ コアラ（オーストラリア）

問2 2025年11月に行われた広島県知事選挙によって、新しく広島県知事に就任した人物を、次のア～エから1つ選び、記号で答えなさい。

ア 湯崎^{ひでひこ} 英彦

イ 松井^{かずみ} 一實

ウ 猪原^{いのほら} 真弓

エ 横田 美香

受験番号	
氏名	

前期

令和8年度 近畿大学附属広島中学校東広島校 入学試験 社会 解答用紙

1	問1				問2		問3			得点
	問4	課題								
		対策								

2	問1		問2							得点
	問3									

3	問1		問2		問3		問4			得点
	問5									
	問6									

4	問1		問2							得点
	問3	X			Y					
	問4									

5	①	記号	都道府県名		得点
	②	記号	都道府県名		
	③	記号	都道府県名		
	④	記号	都道府県名		
	⑤	記号	都道府県名		

6	問1									得点
	問2									

7	問1		問2							総得点