

令和6年度

前期

入学試験問題

社 会

注意事項

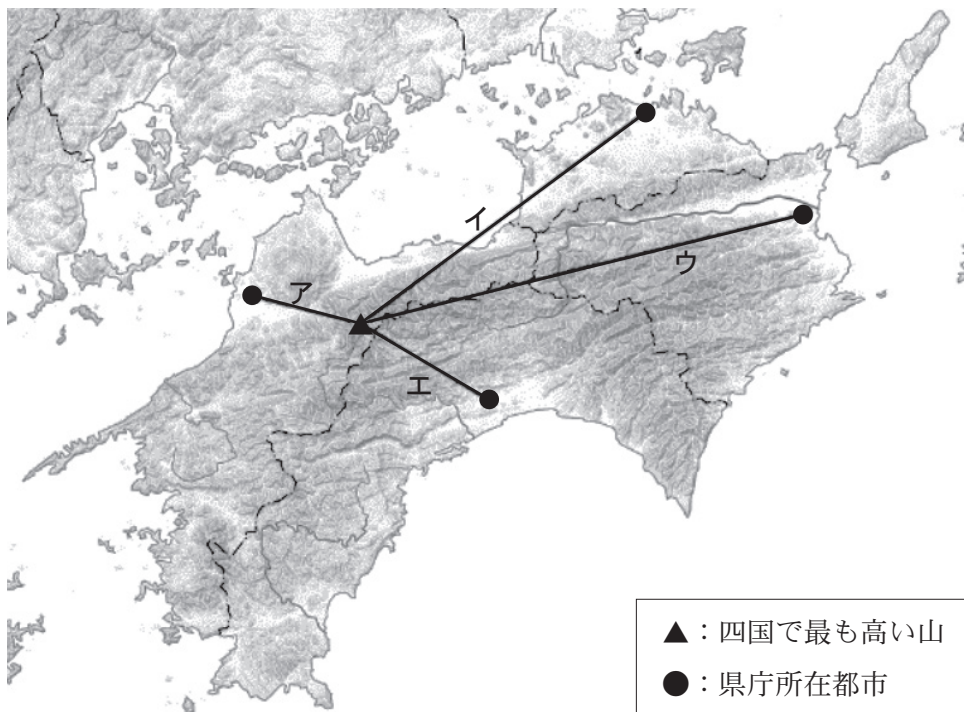
1. 試験問題は指示があるまで開かないでください。
2. 解答は必ず解答用紙に記入してください。
3. 問題冊子・解答用紙に、受験番号と氏名を記入してください。
4. 問題冊子は必ず持ち帰ってください。

受験番号	氏 名	

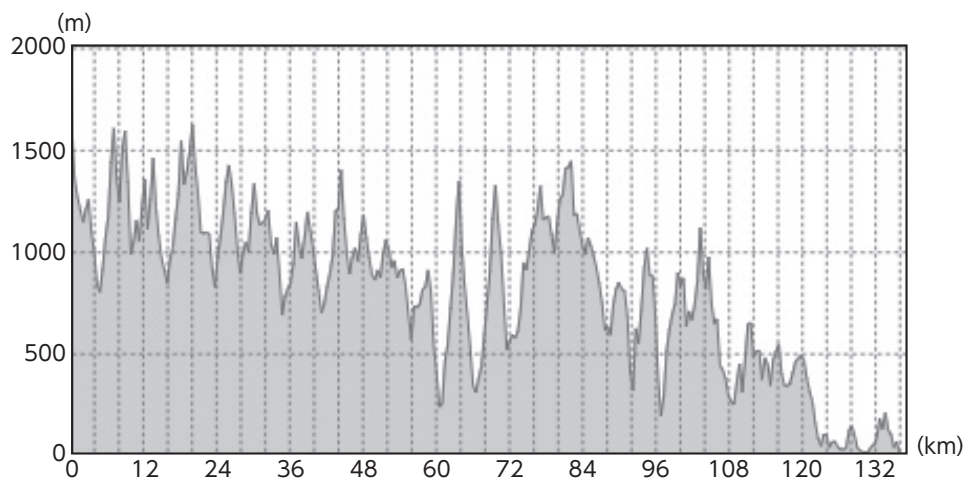
近畿大学附属広島中学校東広島校

問題は、次のページから始まります。

1 修学旅行で四国へ行くことになった山内さんは、事前調査をしました。調査で利用した次の地図を見て、後の問いに答えなさい。

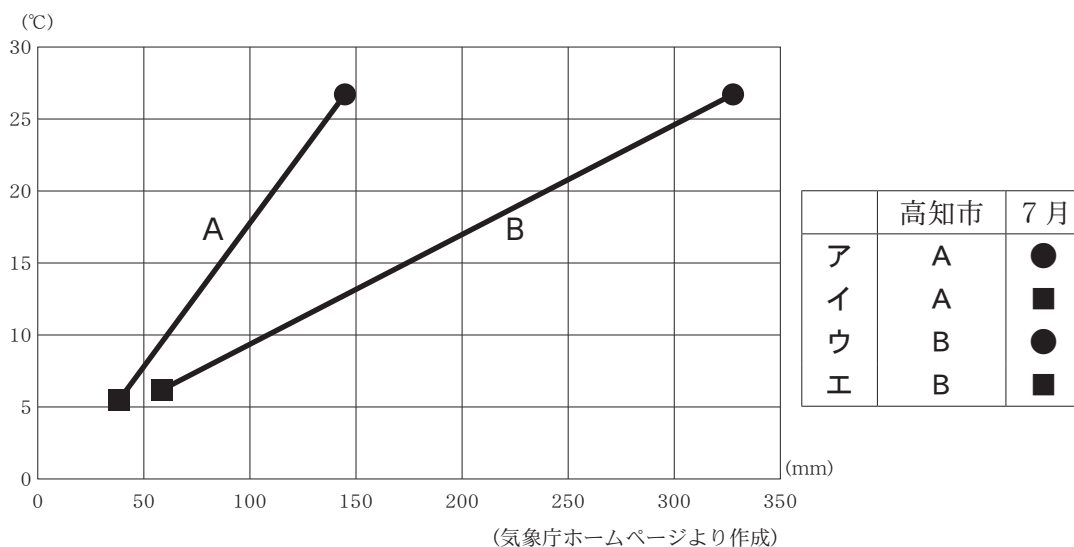


問1 山内さんは地図の等高線を利用して、四国地方で最も高い山と県庁所在都市を結ぶ断面図を作成しました。次の断面図にあてはまるものを、地図中のア～エから1つ選び、記号で答えなさい。



(地理院地図より作成)
縦軸は標高 (m) を表している

問2 山内さんは高知市と高松市の1月・7月の月平均気温と月降水量を調べて、グラフを作成しました。次のグラフのAとBは高知市か高松市のどちらかであり、●と■は1月か7月のどちらかを示しています。高知市と7月の月平均気温・月降水量を示したものの正しい組み合わせを右のア～エから1つ選び、記号で答えなさい。



問3 山内さんは、四国地方の農業の特徴を県ごとにまとめることにしました。山内さんのまとめを参考にして、後の【語群】にある用語から3つ選んで愛媛県の農業の特徴を説明しなさい。(ただし、選んだ語句には下線を引くこと)

～山内さんのまとめ～

【高知県】

温暖な気候を活用して、高知平野ではビニールハウスでキュウリやナスなどの促成栽培がさかん。

【語群】

ため池 いなさく 稲作 みかん しゃめん 斜面 らく農 りんご 段々畑

問4 山内さんは、瀬戸内しまなみ海道を利用して四国へ移動するようです。そこで、四国と本州を結ぶ橋について調べました。明石海峡大橋以外のルートは四国側と本州側のそれぞれの都市を結んでいますか、次の表の①～④に入る都市名を答えなさい。

ルート	西側	しまなみ海道	瀬戸大橋	明石海峡大橋	東側
本州側		①〇〇市	②××市	神戸市	
四国側		③□□市	④△△市	鳴門市	

問5 山内さんは、ゴミを細かく分別することで、リサイクル率80%を越える町が徳島県にあることを知りました。これはSDGsのゴール12「つくる責任つかう責任」の達成に向けた取り組みだと感じ、興味を持ちました。「つくる責任つかう責任」の達成のために、ゴミの分別以外で私たちができることはどのようなことがありますか、答えなさい。



- 2 次の地図中のA～Dは、昨年5月に開かれたG7広島サミット2023のヨーロッパの参加国を記したものです。この地図をみて、後の問いに答えなさい。



- 問1 ヨーロッパの西に広がる海洋の名前を答えなさい。
- 問2 ヨーロッパの南に広がる大陸の名前を答えなさい。
- 問3 次の文章は、地図中のA～Dのどの国を説明したものですか、地図中の記号とその国名をそれぞれ答えなさい。

かつてローマ帝国が栄え、現在もその当時の建造物が観光資源として生かされている。また、ピザやパスタなどの料理は、この国から世界各地へ広まったとされている。

- 問4 地図に記されていないG7サミットの参加国のうち、右の国旗が示す国名を答えなさい。



問5 次の地図は、G7広島サミットが開かれた会場周辺の現在の地図を、明治29年発行のもの^{ひかく}と比較したものです。現在と明治29年発行の地図の2つで、宇品島の形が異なるのはなぜですか、その理由として正しいものを、次のア～エから1つ選び、記号で答えなさい。



現在



明治29年発行

(今昔マップより作成)

- ア 火山活動によって溶岩が山頂より流出し、海岸に広がったから。^{ようがん}
- イ 地震活動によって宇品島全体が海面からもり上がったから。^{じしん}
- ウ 大雨によって山から土砂が流出して海岸を埋めたから。^う
- エ 経済活動によって海岸の埋め立てや干拓が進められたから。^{かんたく}

3 次の資料を見て、後の問いに答えなさい。

資料

■創業寛永元年（1624年）

福砂屋は1624年、寛永元年の創業。日本が鎖国へと向かっていく激動の時代でした。前年の1623年に①徳川家光が三代将軍となり、②キリシタンの布教禁止を強化。創業時の寛永元年にはスペイン船の来航を禁止して、スペインとの国交を断絶しています。

その後1633年（寛永10年）に幕府は第一次鎖国令を出し、3年後の1636年には③出島が完成しました。

■長崎市観光案内『長崎案内』にみる創業のエピソード

福砂屋の創業は、1937年（昭和13年）に長崎市から刊行された『長崎案内』でも紹介されています。そこには「315年前の寛永元年に、ポルトガル人よりカステラ製造を伝授。その原名はカストルボルという。カストルとはスペインの州名、ボルは菓子かしの意味」とあります。また、「カストルとはカステーリヤのこと、ボルはポーロ、お菓子のこと」とも書かれています。

（福砂屋ホームページより作成）


問1 下線部①について説明した文として正しいものを，次のア～エから1つ選び，記号で答えなさい。

- ア 農民が一揆を起こさないように，刀や鉄砲などの武器を取り上げた。
- イ 大名が領地と江戸を1年おきに行き来する参勤交代の制度を定めた。
- ウ 幕府と御家人の「ご恩と奉公」の関係をくわしく取り決めた。
- エ 関ヶ原の戦いに勝利して，征夷大將軍となり，幕府を開いた。

問2 下線部②について，次の写真は布教禁止のために使われたものです。その使用方法について，^{えが}描かれている人物の名前を明らかにして，40字以内で説明しなさい。



問3 下線部③の出島の場所は、次の地図のA・Bどちらですか。また、出島で通商していたはどこの国ですか。その組み合わせとして正しいものを、後のア～カから1つ選び、記号で答えなさい。



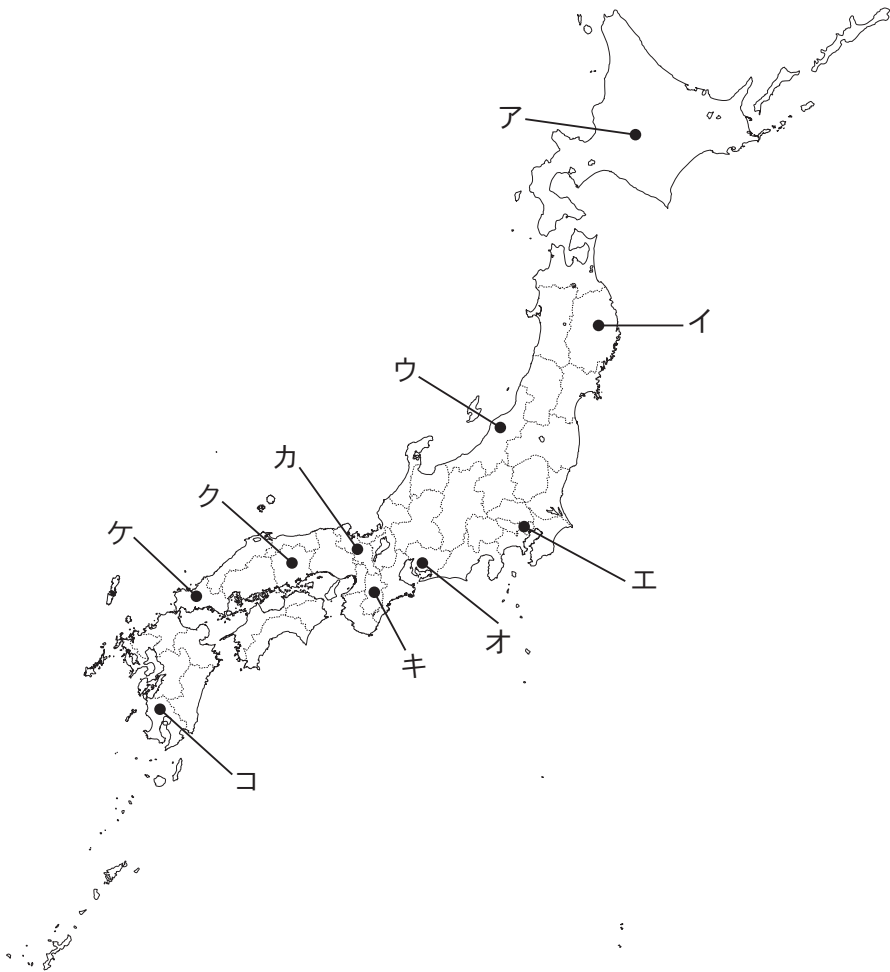
- | | | | | | |
|---|---|-------|---|---|-------|
| ア | A | 中国 | イ | B | 中国 |
| ウ | A | オランダ | エ | B | オランダ |
| オ | A | ポルトガル | カ | B | ポルトガル |

問4 「カステラ」を日本へ伝えた国が日本へ伝えたものを、次のア～エから1つ選び、記号で答えなさい。

- | | | | | | | | |
|---|-----|---|----|---|-------|---|-------|
| ア | ガス灯 | イ | 鉄砲 | ウ | ジャガイモ | エ | サツマイモ |
|---|-----|---|----|---|-------|---|-------|

4 次の①～⑤の文にあてはまる都道府県を，後の地図中のア～コからそれぞれ1つずつ選び，記号とその都道府県名を答えなさい。

- ① 明治政府軍と旧幕府軍が戦った五稜郭がある。
- ② 東海道の起点となっている日本橋がある。
- ③ 織田信長と徳川家康の連合軍が武田勝頼をたおした長篠がある。
- ④ 源氏と平氏が戦った壇ノ浦がある。
- ⑤ ^{そう}僧たちが学ぶために，鑑真が開いた唐招提寺がある。



5 タケシさんは日本と大陸との関係について発表するために、4枚のカードにまとめました。これを見て、後の問いに答えなさい。

①

・中国（明）を征服しようと考え、2度にわたって朝鮮に大軍を送ったが、自身が亡くなったので、引き上げた。

②

・遣唐使が、中国の進んだ政治のしくみや大陸の文化を学び、法^{ほう}律^{りつ}や歴史についての書物や仏教の経典を手に入れた。

③

・元が2度にわたって九州北部に攻め込^せんできたが、暴風にあうなど大きな損害を受けて引き上げた。

④

・聖徳太子が、進んだ政治の仕組みや文化を取り入れようと、小野妹子らを遣隋使として送った。

問1 カード①～④を時代の古い順番にならびかえたときに3番目になるものを選び、カードの番号を答えなさい。

問2 カード①にある出兵を指示した人物を答えなさい。

問3 カード②の遣唐使が日本へ伝えたものを、次のア～エから1つ選び、記号で答えなさい。

ア




イ



ウ



エ



問4 カード③について、このあと幕府の力はおとろえていくこととなります。
次の文の（ ）に文をおぎなつて、その原因を説明しなさい。

御家人たちは多くの費用を使い、命がけで戦ったにもかかわらず、
（ ）ので、しだいに幕府に不満を持つよう
になり、幕府と御家人との関係が崩れてしまった。

問5 カード④の聖徳太子について説明した文として誤^{あやま}っているものを、次のア
～エから1つ選び、記号で答えなさい。

- ア 天皇を助ける地位について、天皇を中心とした国をつくろうとした。
- イ 仏教を重んじて、日本各地に国分寺や国分尼寺を建てた。
- ウ 十七条の憲法によって、政治を行う役人の心構えを示した。
- エ 能力がある人物を役人に取り立てる冠位十二階をつくった。

- 6 次の新聞記事を読み、後の問いに答えなさい。（一部表現をわかりやすくしたり、省略したりしています。）

〈調査や申請の「性別欄」なくす動きがあるの？〉

Q いろいろな調査やアンケートで「性別欄」をなくす動きがあるんだってね。

A そうなんだ。国の統計調査や自治体の申請書などの様式は、男女のどちらかを選ぶものがほとんど。ただ、心と体の性が一致しない「あ」など、性的少数者への配慮を求める声が強まっている。性別欄自体をなくしたり、「その他（どちらともいえない・わからない）」という選択肢を設けたりする動きが広がっているよ。

Q 具体的にどういう事例があるの？

A 例えば公立高校の入学願書。内閣府によると、大阪府と福岡県が2019年春の入試から性別欄をなくすと、今年春の入試までに東京都をのぞく46道府県に広がった。そのほか、公共施設の使用申請書やボランティアの申込書、選挙の投票所の入場券など、性別を聞く必要がないものから廃止する自治体も徐々に増えている。性別欄がない履歴書も売られているよ。

Q いずれ性別欄はなくなるのかな。

A そうとも言い切れない。性的少数者への配慮は必要だけど、調査によっては男女別のデータをきちんと把握する必要がある。例えば、。

Q 線引きが難しいね。（後略）

（2022年6月28日 朝日新聞「いちからわかる！」より作成）

問1 空欄 に入る言葉を、次のア～エから1つ選び、記号で答えなさい。

ア プライバシー

イ トランスジェンダー

ウ マイノリティー

エ ポジティブアクション

問2 空欄 に入る事例を、記事の内容に沿うように考えて答えなさい。

7

次の時事問題に答えなさい。

問1 2024年の3月にはロシアで、11月にはアメリカで実施が予定されている
共通のできごとは何ですか、次のア～エから1つ選び、記号で答えなさい。

- | | |
|----------------------------|------------|
| ア 通貨のデザイン刷新 | イ NATOへの加盟 |
| ウ 中国との国交締結 ^{ていけつ} | エ 自国の大統領選挙 |

問2 2024年の秋から、欧州連合（EU）域内^{おうしゅう}で販売^{はんばい}されるスマートフォンやタブレット^{たんまつ}端末など電子機器の充電器^{ていけつ}端末が統一される予定です。これについて書かれた次の①～④のうち、組み合わせとして正しいものを、後のア～エから1つ選び、記号で答えなさい。

- ① 「ライトニングケーブル」が統一規格に採用されている。
- ② 「USBタイプC」が統一規格に採用されている。
- ③ 統一されれば、充電するためのコンセントが増加すると心配されている。
- ④ 統一されれば、余分な充電器を生産しなくてよくなると考えられている。

- | | |
|-------|-------|
| ア ①・③ | イ ①・④ |
| ウ ②・③ | エ ②・④ |

